




eğitimgen

yarına bir hikaye bırak



3.SINIF

EĞLENCELİ TEKRAR FASİKÜLÜ

TÜRKÇE

MATEMATİK

HAYAT BİLGİSİ

FEN BİLİMLERİ

BULMACA



Eđitimgen ailesi olarak sevginin, mutluluđun, bilginin paylařtıkça çođaldıđına inanıyoruz. Amacımız; öđrendiklerimizi, deneyimlediklerimizi, keřfettiklerimizi, kısacası tüm bilgi birikimimizi eđitime gönül veren herkesle paylaşmaktır.

Ülkemizin dört bir yanından bir araya gelmiř gönüllü eđitimcilerden oluřan Eđitimgen ailesi olarak, mekan ve zaman sınırlarını ařan çok boyutlu bir eđitim ortamı oluřturmak için çabalıyoruz. Bunu sađlamak amacıyla eđitimde fırsat eřitliđini destekleyen, yeni fikirler üreten, özgün ve farklı içerikler oluřturuyoruz.

Eđitimin bütün paydařlarına yönelik zengin içeriklere, çocuklar için macera dolu hikâyelere, eđitime dair makalelere, eđlenceli oyunlara, kitap önerilerine, eđitici film tavsiyelerine, online deđerlendirme testlerine, online etkinliklere ve daha birçok materyale sitemiz üzerinden ulařabilirsiniz.



egitimgen



Bu eser Creative Commons Alıntı-GayriTicari-Türetilemez 4.0 Uluslararası Lisansı ile lisanslanmıřtır.

Bu eserin kaynak gösterilmeden paylařılması, ticari olarak kullanılması ve üzerinde deđerlik yapılması lisans kořullarına aykırıdır.

OKUDUĞUNU ANLAMA

BOZUK TELEVİZYON

Yağmurlu bir pazar gününe Umba, dışarıdan gelen gök gürültüsü sesi ile uyandı. Mevsimler yer değiştiriyor, sonbaharın ardından kış yavaş yavaş gelmeye başlıyordu. Göküzü o sabah kapkaranlık olmuş; adeta Umba'ya kışın geldiğini haber veriyordu.


Umba'nın kardeşi Yisa, telaşlı bir şekilde Umba'nın yanına geldi. Umba'ya "Televizyonumuz çalışmıyor, çok üzgünüm." dedi. Umba yatağından hızlıca kalktı. Elini yüzünü yıkayıp kardeşi ile birlikte televizyonun yanına geldiler. Her gün hiç aksamadan çalışan televizyon bugün çalışmıyordu. Yisa ile bir çözüm bulmak istediler. Fakat akıllarına hiçbir şey gelmiyordu.



Umba'nın annesi Ayba, bu sırada nefis bir pazar kahvaltısı hazırlıyordu. İçeriden gelen sesleri duydu. Umba'ya "Televizyonun neden çalışmadığını merak ediyorsunuz değil mi?" diye sordu. Umba ve Yisa onaylarcasına başlarını salladılar. Ayba "Çocuklar hava koşullarının kötü olması bazen teknolojik aletleri etkileyebilir. Televizyonumuz bozulmadı. Sadece dışarıdaki şiddetli yağmur çalışmasına geçici bir süre yayınlara engel oldu." dedi. Umba ve Yisa rahat bir nefes aldı. Mutlu bir pazar günü kahvaltısı yaptılar.

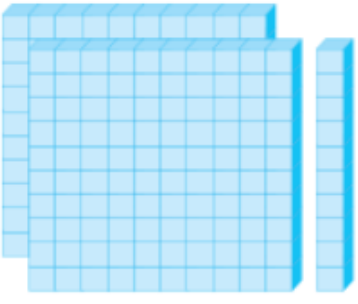
Aşağıdaki soruları metne göre cevaplayınız.

1. Umba, nasıl uyandı?
.....
2. Göküzü, neyin haberini veriyordu?
.....
3. Televizyonun çalışmadığını Umba'ya kim haber verdi?
.....
4. Televizyon neden çalışmıyordu?
.....
5. Umba'nın başından geçen bu olay ne zaman yaşandı?
.....



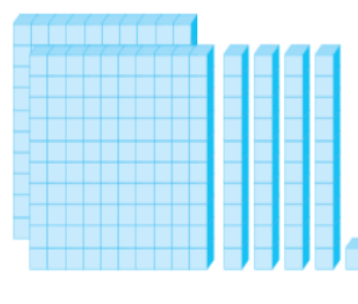
ÜÇ BASAMAKLI SAYILARI OKUMA - YAZMA

Aşağıdaki modellerin ifade ettiği sayıyı bulup okunuşunu yazınız.



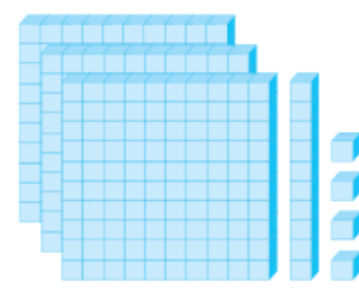
Sayı:

Okunuşu:



Sayı:

Okunuşu:



Sayı:

Okunuşu:

Aşağıdaki sayıların okunuşlarını yazınız.

98:

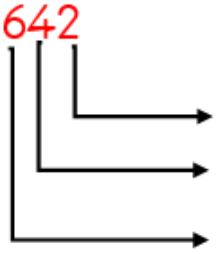
125:

985:

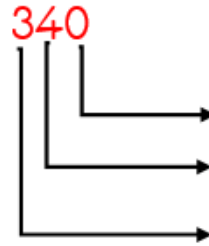
702:

BASAMAK ADI VE BASAMAK DEĞERİ

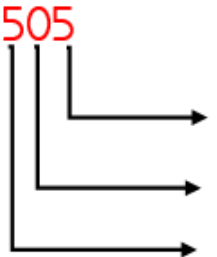
Aşağıda verilen doğal sayıların basamak adlarını ve basamak değerlerini yazınız.



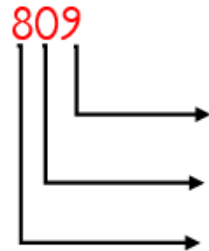
Basamak adı Basamak değeri



Basamak adı Basamak değeri



Basamak adı Basamak değeri



Basamak adı Basamak değeri

Aşağıda verilen doğal sayıların çözümlemesini yanına yazınız.

895: 8 yüzlük + 9 onluk + 5 birlik

421:

654:

102:

BİREYSEL FARKLILIKLARIMIZ

<input type="checkbox"/>	Voleybol
<input type="checkbox"/>	Şiir
<input type="checkbox"/>	Resim
<input type="checkbox"/>	Matematik
<input type="checkbox"/>	Basketbol
<input type="checkbox"/>	Müzik

Merhaba Arkadaşlar,

Benim adım Nisa. Voleybol oynarken topu istediğim yere gönderebiliyor ve rakibimin attığı topları karşılayabiliyorum fakat basketbol oynarken top sürmekte ve basket atmakta zorlanıyorum. Arkadaşlarım ve öğretmenim yazdığım şiirleri çok beğeniyor fakat çizimlerim bir türlü istediğim gibi olmuyor. Ayrıca işlemleri hızlı yapıyor ve matematik problemlerini çabucak çözüyorum ancak flüt çalma konusunda pek başarılı değilim.

Benim güçlü yönlerimin kutucuklarını yeşile, zayıf yönlerimin kutucuklarını kırmızıya boyar mısınız?



KAYNAKLARIMIZIN BİLİNÇLİ TÜKETİMİ



Aşağıdaki ifadelerden okulumuzdaki kaynakların bilinçli kullanımı için doğru olanların başına "D" yanlış olanların başına "Y" yazınız.

- () Ellerimi yıkarken suyu hep açık bırakırım.
- () Okuldaki kaynakları tasarruflu bir şekilde kullanırım.
- () Sınıfımızın pencereleri hep açık durur.
- () Gündüz yeterli güneş ışığı varsa sınıfımızın lambalarını kapatırız.
- () Okulumuzun tuvaletlerindeki kâğıt peçetelerle oyun oynarız.
- () Okulumuzun kaynakları sınırsız değildir.
- () Okulumuzdaki ışıklar tüm gün yanmalıdır.
- () Kullanmadığımız zamanlarda sınıfımızdaki akıllı tahta kapalı durur.
- () Sınıfımızın pencerelerini, teneffüs zamanı açar, ders başlamadan kapatırız.




OLAYLARIN OLUŞ SIRASI

Aşağıdaki karışık olarak verilmiş cümleleri oluş sırasına göre sıralayınız.

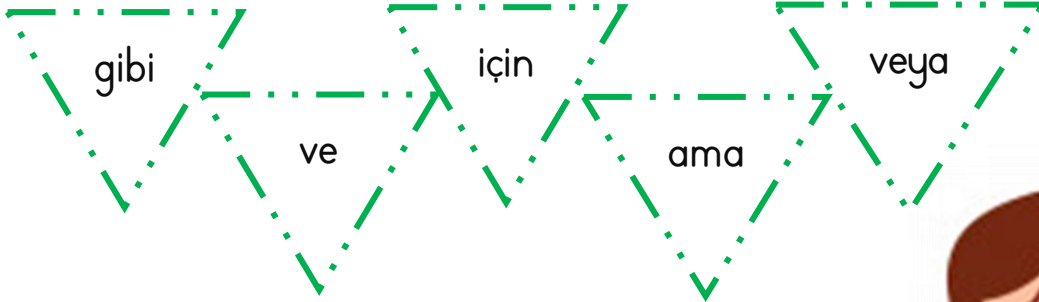
Barış, konuya göre resmini yapmaya başladı.
Panoya resminin asıldığını gördükten sonra çok mutlu oldu.
Resmini bitirdikten sonra öğretmenine gösterdi.
Barış, çantasından boya kalemlerini çıkardı.
Öğretmen, konularının Çanakkale Destanı olduğu söyledi.

Aşağıdaki resimleri olayın oluş sırasına göre sıralayınız sonra boyayınız.



TEK BAŞINA ANLAMI OLMAYAN SÖZCÜKLER

Aşağıdaki cümlelerde boş bırakılan yerleri uygun ifadeler ile doldurunuz.



- Samet Semih tatil için köye gittiler.
- Sınavı kazanmak düzenli ders çalışmalısın.
- Meryem, Kardelen'in elbisesi elbise aldı.
- Oturduğu evi bulduk evde yoktu.
- Okul çıkışı sinemaya tiyatroya gideceğiz.



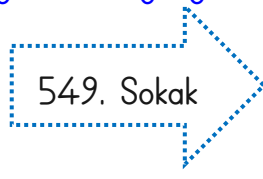
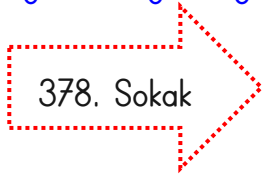
EN YAKIN ONLUĞA VE EN YAKIN YÜZLÜĞE YUVARLAMA

Aşağıdaki doğal sayıları en yakın olduğu onluk ile eşleştiriniz.



150	740	120	610	110	620	160	750
-----	-----	-----	-----	-----	-----	-----	-----

Aşağıdaki doğal sayıları en yakın olduğu yüzlük ile eşleştiriniz.



100	200	300	400	500	600	700	800
-----	-----	-----	-----	-----	-----	-----	-----

RİTMİK SAYMA

Aşağıda verilen doğal sayıları onar ritmik arttırarak devam ettiriniz.

159	→	<input type="text"/>	<input type="text"/>	<input type="text"/>	<input type="text"/>	<input type="text"/>	<input type="text"/>	<input type="text"/>	<input type="text"/>
97	→	<input type="text"/>	<input type="text"/>	<input type="text"/>	<input type="text"/>	<input type="text"/>	<input type="text"/>	<input type="text"/>	<input type="text"/>
501	→	<input type="text"/>	<input type="text"/>	<input type="text"/>	<input type="text"/>	<input type="text"/>	<input type="text"/>	<input type="text"/>	<input type="text"/>

Aşağıda verilen doğal sayıları yüzer ritmik arttırarak devam ettiriniz.

54	→	<input type="text"/>	<input type="text"/>	<input type="text"/>	<input type="text"/>	<input type="text"/>	<input type="text"/>	<input type="text"/>	<input type="text"/>
74	→	<input type="text"/>	<input type="text"/>	<input type="text"/>	<input type="text"/>	<input type="text"/>	<input type="text"/>	<input type="text"/>	<input type="text"/>
50	→	<input type="text"/>	<input type="text"/>	<input type="text"/>	<input type="text"/>	<input type="text"/>	<input type="text"/>	<input type="text"/>	<input type="text"/>

DÜNYA'NIN ŞEKLİ

Aşağıda verilen ifadelerden Dünya'nın yuvarlak olduğunu kanıtlayan ifadeleri işaretleyiniz.



Dünya'nın uzaydan çekilen fotoğrafı



Dünya'nın etrafını aynı yönde giderek dolaşan uçak



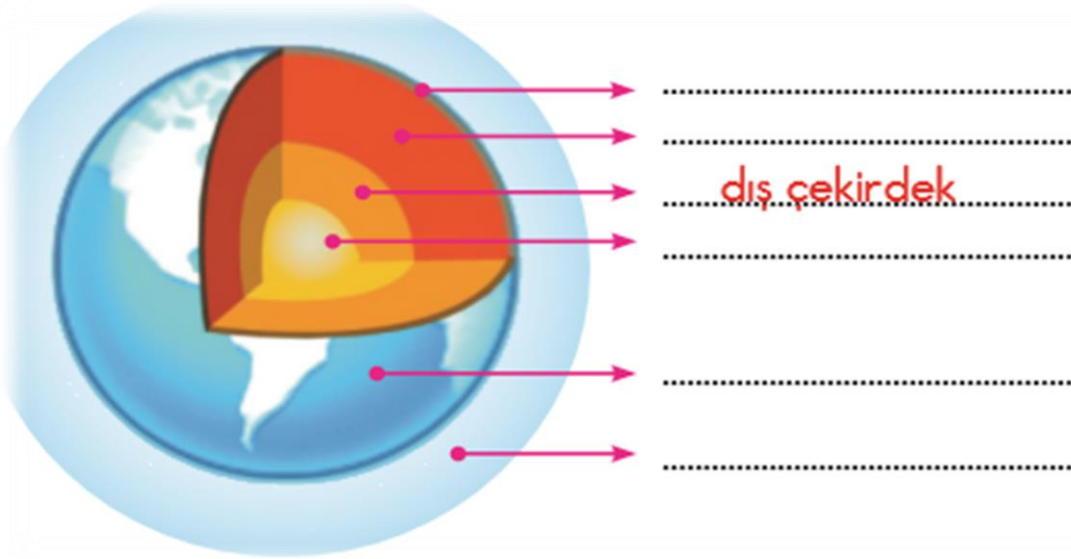
Ufuktan yaklaşan geminin önce bacasının görünmesi



Dünya'nın üzerinde canlıların yaşaması

DÜNYA'NIN YAPISI

Aşağıda boş bırakılan yerlere Dünya'mızın katmanlarını örnekteki gibi yazınız.




Hava Katmanında Yaşayan Canlılar	Su Katmanında Yaşayan Canlılar	Kara Katmanında Yaşayan Canlılar

RESFEBE, bir kelimenin farklı kelimeler,
sözcük grupları ya da resimlerle
anlatılması üzerine tasarlanmış bir
oyundur. Hadi, birlikte şifreleri çözelim!



AY

B  Ş

C  

G  

CÜMLE TAMAMLAMA

Aşağıdaki cümlelerde boş bırakılan yerleri uygun kelimelerle tamamlayınız.

Arkadaşlarım kitap almış.

oyuncu



Yemek için yardım ettim.

ayakkabılık



Evimize yeni aldık.

bana



Korkudan ellerim zangır zangır

titriyor



Hakan iyi bir olacak.

anneme



ZIT ANLAMLI KELİMELER

Aşağıdaki kum saatinde bulunan sözcükleri zıt anlamlıları ile eşleştiriniz.

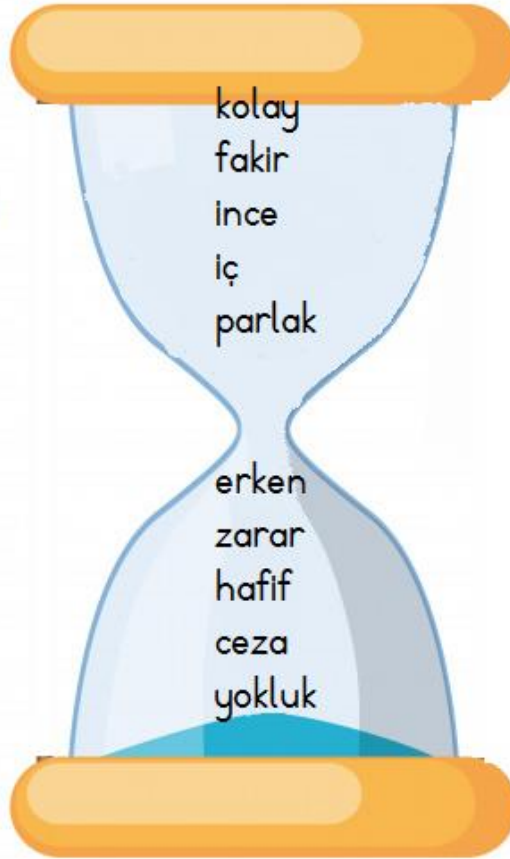
zengin

varlık

kalın

geç

zor



dış

fayda

ödül

ağır

mat

DOĞAL SAYILARI SIRALAMA

Aşağıda verilen doğal sayıları verilen sembollere göre doğru bir şekilde sıralayınız.

254-366-102-698-465-521

254-658-154-321-897-420

.....>.....>.....>.....>.....>.....

.....<.....<.....<.....<.....<.....

789-301-658-498-555-874

985-365-154-458-412-745

.....<.....<.....<.....<.....<.....

.....>.....>.....>.....>.....>.....

SAYI ÖRÜNTÜLERİ

Aşağıda verilen örüntülerin kuralını bulup belirtilen adımdaki sayıyı yazınız.

Örüntü					Örüntü Kuralı	İstenilen Adım
2	4	6	8	10	İkişer ritmik sayma	6. adım = 12
5	8	11	14			5. adım =
8	12	16		24		4. adım =
3	9	15	21	27		6. adım =
80	70	60	50	40		8. adım =
15	20	25	30	35		7. adım =
19	20	18	19	17		9. adım =
9	14	12	17	15		6. adım =

PLANLAMA

PAZARTESİ	SALI	ÇARŞAMBA	PERŞEMBE	CUMA
HAYAT BİLGİSİ	HAYAT BİLGİSİ	SERBEST ETKİNLİKLER	HAYAT BİLGİSİ	HAYAT BİLGİSİ
TÜRKÇE	TÜRKÇE	TÜRKÇE	TÜRKÇE	TÜRKÇE
TÜRKÇE	TÜRKÇE	TÜRKÇE	TÜRKÇE	TÜRKÇE
MATEMATİK	MATEMATİK	MATEMATİK	MATEMATİK	MATEMATİK
Yemek-Dinlenme				
MÜZİK	YABANCI DİL	YABANCI DİL	SERBEST ETKİNLİKLER	GÖRSEL SANATLAR
BEDEN EĞİTİMİ VE OYUN	BEDEN EĞİTİMİ VE OYUN	BEDEN EĞİTİMİ VE OYUN	BEDEN EĞİTİMİ VE OYUN	BEDEN EĞİTİMİ VE OYUN




Yukarıda Ayşe'nin haftalık ders programı verilmiştir. Haftalık ders programına göre aşağıdaki ifadelerden doğru olanların başına "D" yanlış olanların başına "Y" yazınız.

- () Ayşe, her gün Türkçe defterini çantasında bulundurmalıdır.
- () Ayşe, çarşamba günleri hayat bilgisi kitabını çantasında bulundurmalıdır.
- () Ayşe, cuma günleri resim defterini çantasında bulundurmalıdır.
- () Ayşe, sadece salı günleri İngilizce defterini çantasına koymalıdır.
- () Ayşe'nin her gün beden eğitimi ve oyun dersi vardır.

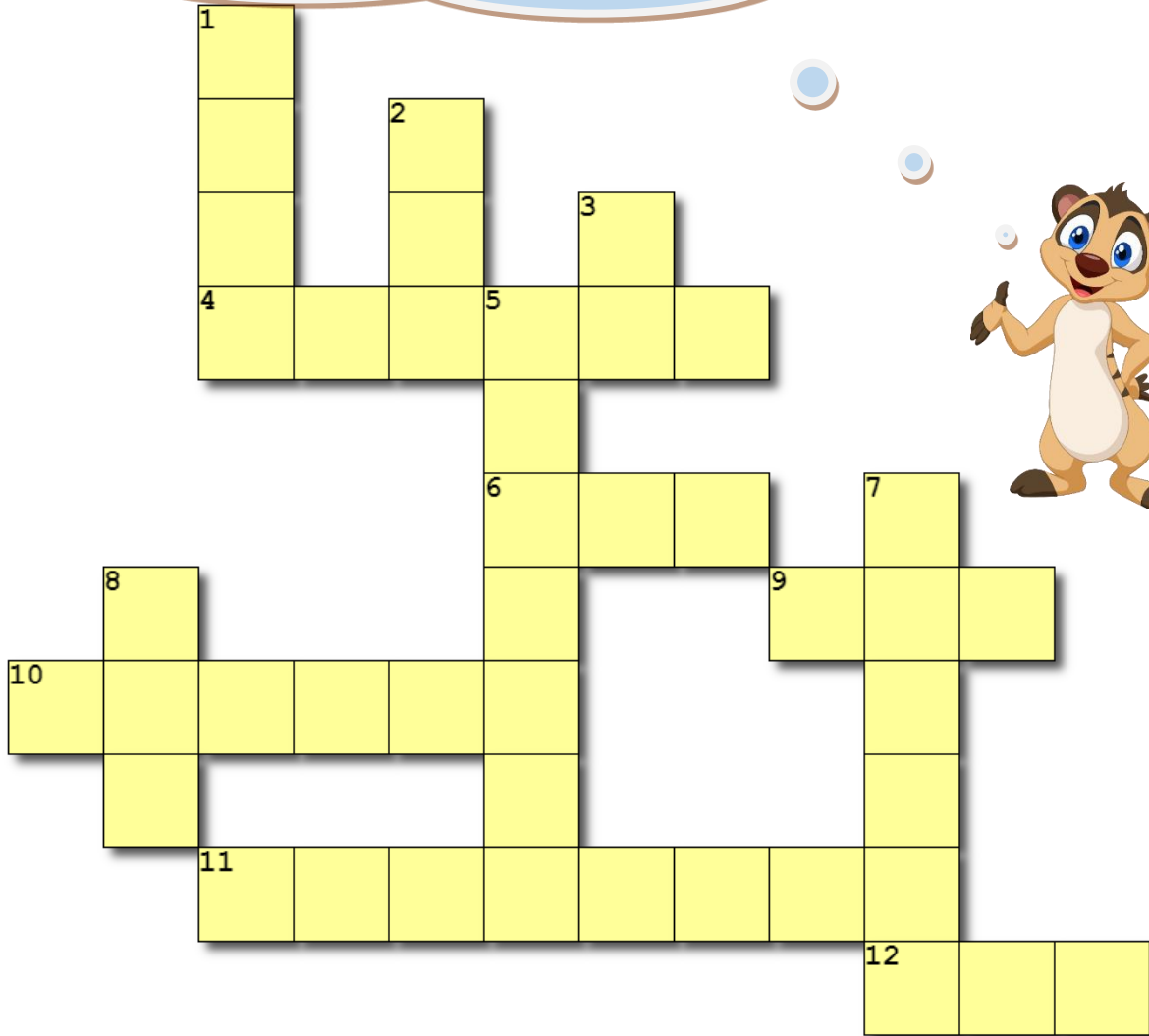
DENGELİ BESLENME

Dengeli ve sağlıklı beslenmeye uygun bir kahvaltıda olması gereken besinleri, ok işareti çizerek kahvaltı tabağına taşıyınız.



ÇENGEL BULMACA

Hadi, aşağıdaki deyim ve atasözlerinde boş bırakılan kelimeleri bulup bulmacadaki ilgili yere yazalım!



Soldan-Sağa

4. Komşu komşunun muhtaçtır.
 6. Dilinde bitmek
 9. Ağaç iken eğilir.
 10. düşmek
 11. Ne ekersen onu
 12. Dost söyler.

Yukarıdan-Aşağıya

1. Ağız kalmak
 2. Etekleri çalmak
 3. İpe sermek
 5. El tutmak
 7. Bugünün işini bırakma.
 8. Damlaya damlaya olur.

OKUDUĞUNU ANLAMA

UMBA DENİZDE



Havaların ısınmasıyla doğadaki bütün canlılar etrafı güzelleştiriyordu. Renk renk kelebekler ve kuşlar çevreye canlılık katarken mis kokulu çiçekler çimenleri süslüyordu.

Umba, arkadaşları Desa, Umde ve Dekka ile denize gitmek istiyordu. Deniz kıyafetlerini, havlusunu hazırlıyor, deniz kenarında oynamak için bir top arıyordu.

Annesi Umba'ya yardım ediyordu. Denize giderken yanına ne alması gerektiğini hatırlatıyordu. Ayba Anne "Umba, güneş altında uzun süre kalmak cildimize zarar verebilir. Bu yüzden güneş koruyucusu almayı unutmamalıyız." dedi. Eksik olan malzemeleri de çantalarına yerleştirdiler. Mutlu bir şekilde Desa, Umde ve Dekka'nın aileleriyle yanlarına gelmelerini beklediler.

Arkadaşları ve aileleri gelince denize gitmek için yola koyuldular. Masmavi denizin berraklığına kendilerini bırakıp arkadaşları ile birlikte yüzdüler. Kumdan kale yapıp birbirlerine gösterdiler. Deniz kenarında top oynadılar. Deniz günü macerasını mutlu bir şekilde tamamladılar.

Aşağıdaki soruları metne göre cevaplayınız.

1. Havaların ısınmasıyla doğada neler oluyordu?

.....

.....

2. Umba hangi arkadaşları ile denize gitmek istiyordu?

.....

3. Ayba, Umba'yı niçin uyardı?

.....

4. Umba ve arkadaşları deniz kenarında ne oynadılar?

.....

5. Siz de yaz tatilinde arkadaşlarınızla geçen bir anınızı yazınız.

.....

.....

.....

.....

.....

.....

.....

.....

.....

.....

DOĞAL SAYILARDA TOPLAMA İŞLEMİ

Aşağıdaki toplama işlemlerini yapıp şifreyi bulunuz.

481 + 215 ----- V	288 + 165 ----- E	689 + 121 ----- E	522 + 334 ----- L
----------------------------	----------------------------	----------------------------	----------------------------

652 + 324 ----- D	467 + 341 ----- A	156 + 166 ----- K
----------------------------	----------------------------	----------------------------

↑ 453	↑ 696	↑ 976	↑ 810		↑ 322	↑ 808	↑ 856
----------	----------	----------	----------	--	----------	----------	----------

VERİLMİYEN TOPLANANI BULMA

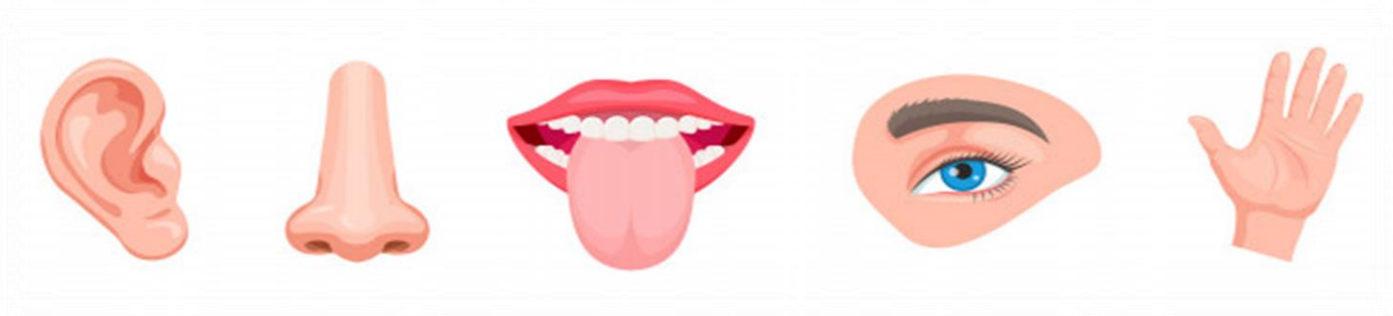
Aşağıdaki toplama işlemlerinde verilmeyen toplananı işlem yaparak bulunuz.

$\begin{array}{r} 481 \\ + \boxed{} \\ \hline 566 \end{array}$	$\begin{array}{r} 225 \\ + \boxed{} \\ \hline 369 \end{array}$	$\begin{array}{r} 298 \\ + \boxed{} \\ \hline 511 \end{array}$
---	---	---

$\begin{array}{r} 789 \\ + \boxed{} \\ \hline 998 \end{array}$	$\begin{array}{r} 174 \\ + \boxed{} \\ \hline 654 \end{array}$	$\begin{array}{r} 264 \\ + \boxed{} \\ \hline 452 \end{array}$
---	---	---

DUYU ORGANLARI VE GÖREVLERİ

Aşağıda verilen görselleri ilgili duyu organı ile eşleştiriniz.



VARLIKLARIN HAREKET ÖZELLİKLERİ

Aşağıda varlıkların hareket özellikleri ile ilgili verilen ifadeleri uygun görseller ile eşleştiriniz.



Hızlanma

Yön
değiştirme

Yavaşlama

Dönme

Sallanma





Aşağıda karışık olarak verilen harfler arasında bazı elektrikli araç isimleri saklandı. Hadi, birlikte bu araçları bulalım!

R A S Ü L İ
 C A R N F I R M Y H D F
 Ö K D S J S C F A J J M R N C D Ç B
 Y F Y T I I I A E L U S Ş I F B P J
 F Y O N Ş K Z K Ğ F K A P M S I V L O J
 Ü D C R F F A P U K Ğ I K F T İ Ö E D K
 K O G O P E Y T Ç İ V V Ş K V J U O E O P V
 D P B G I G R Z R A Y A S İ G L İ B İ D T G
 T H F U Z L D D F B Y M D V S T Y Z B P
 İ T E L E V İ Z Y O N O Y G P
 I G D Y O Y Y R U
 T Y Z D I G H E L O P J Z
 V Ü C Ü J O K H P U O N J U Z
 U C S Z I S O L Z K U S Ü A M İ L K L
 M Z H E A B Ş J G F A O J T G J O F F R C
 G V D I R O İ B A L O D Z Ü B S N Z Ş V J
 J Ü T N S Y İ I V S H D B L A B Ç N Ğ M P Ş Ç
 G K I H L N P G İ R Y U K A R J R İ O İ Z
 R D M J E I P M A Ö E D Y Y T R C K I I A
 Ö H Ğ D İ R Z P S H B U P Y E S F L C
 C D D K A I K N Y I E O S E A F M
 Ç R F T F A P D U Z R K O
 İ J G S U H U S H
 A E N
 L Y I

TELEVİZYON

RADYO

MİKSER

ÜTÜ

BİLGİSAYAR

FİRİN

BUZDOLABI

ASANSÖR

KLİMA

YAZICI

EŞ ANLAMLI KELİMELER

Aşağıda verilen kelimelerin eş anlamlılarını tablodan bulup işaretleyiniz.

KONUK
ELBİSE
KELİME
BECERİ
İHTİYAR
HİKAYE
TAMİR
AK
HASRET
MACERA
AL
SÜRAT

Z	A	M	İ	S	A	F	İ	R	A	K	S	K	G	H
H	Ö	M	V	B	J	I	L	Ş	İ	I	Ş	I	K	J
İ	Ş	P	O	U	M	N	J	U	Y	R	U	Y	Y	T
G	H	A	T	I	R	A	G	D	R	M	Y	A	O	Ü
B	I	A	S	F	B	G	T	E	S	I	B	F	Ö	M
Ç	Z	V	C	İ	E	Ü	I	O	U	Z	U	E	S	J
Ö	M	N	B	F	Y	D	O	N	R	I	M	T	Ö	A
Ç	Ö	M	K	I	A	L	H	F	V	N	M	Ö	Z	O
Ç	Z	S	A	Ö	Z	L	E	M	İ	Ş	K	J	C	G
N	B	Z	A	Y	A	A	C	G	T	I	U	Y	Ü	G
Ö	M	N	J	K	İ	A	Y	E	T	E	N	E	K	F
C	V	U	I	Ü	O	J	G	D	G	J	A	S	D	E
Y	A	Ş	L	İ	Ö	İ	S	E	R	Ü	V	E	N	A

EŞ SESLİ KELİMELER

Aşağıda verilen kelimelerden eş sesli olanların kutucuğunu boyayıp ok ile arı kovanına koyunuz.



yaş



yat



yavaş



sel



yüz



el



dil



kuru

DOĞAL SAYILARLA ÇIKARMA İŞLEMİ

Aşağıdaki çıkarma işlemlerini yapıp şifreyi bulunuz.

481	288	689	522	854
$\begin{array}{r} - \\ 215 \end{array}$	$\begin{array}{r} - \\ 165 \end{array}$	$\begin{array}{r} - \\ 121 \end{array}$	$\begin{array}{r} - \\ 334 \end{array}$	$\begin{array}{r} - \\ 456 \end{array}$
<div style="border: 1px solid black; width: 100px; height: 40px; display: flex; justify-content: space-between; align-items: center;">Ğ</div>	<div style="border: 1px solid black; width: 100px; height: 40px; display: flex; justify-content: space-between; align-items: center;">M</div>	<div style="border: 1px solid black; width: 100px; height: 40px; display: flex; justify-content: space-between; align-items: center;">T</div>	<div style="border: 1px solid black; width: 100px; height: 40px; display: flex; justify-content: space-between; align-items: center;">E</div>	<div style="border: 1px solid black; width: 100px; height: 40px; display: flex; justify-content: space-between; align-items: center;">E</div>
865	555	864	425	
$\begin{array}{r} - \\ 434 \end{array}$	$\begin{array}{r} - \\ 466 \end{array}$	$\begin{array}{r} - \\ 256 \end{array}$	$\begin{array}{r} - \\ 334 \end{array}$	
<div style="border: 1px solid black; width: 100px; height: 40px; display: flex; justify-content: space-between; align-items: center;">i</div>	<div style="border: 1px solid black; width: 100px; height: 40px; display: flex; justify-content: space-between; align-items: center;">N</div>	<div style="border: 1px solid black; width: 100px; height: 40px; display: flex; justify-content: space-between; align-items: center;">i</div>	<div style="border: 1px solid black; width: 100px; height: 40px; display: flex; justify-content: space-between; align-items: center;">G</div>	

↑ 188	↑ 266	↑ 431	↑ 568	↑ 608	↑ 123	↑ 91	↑ 398	↑ 89
----------	----------	----------	----------	----------	----------	---------	----------	---------

TEK VE ÇİFT DOĞAL SAYILAR

Aşağıda harflerle gösterilen işlemlerin sonucunun tek mi çift mi olduğunu bulup işaretleyiniz.

+	10	21	33	46	59
0					
2					
4			a		
6	b				
8					c

-	3	12	20	17	31
1		f			
3					
5				d	
7					
9			e		

a işleminin sonucu	TEK	ÇİFT
b işleminin sonucu	TEK	ÇİFT
c işleminin sonucu	TEK	ÇİFT
d işleminin sonucu	TEK	ÇİFT
e işleminin sonucu	TEK	ÇİFT
f işleminin sonucu	TEK	ÇİFT

SAĞLIKLA İLGİLİ KURUMLAR VE MESLEKLER

Aşağıda verilen görsellerden sağlıkla ilgili olanların yanındaki kutuları boyayınız.



Özel
Hastane



Devlet
Hastanesi



Aile Sağlığı
Merkezi



İtfaiye



Diş
Hastanesi



Polis
Karakolu



Eczane



Banka

ACİL DURUMLAR

Aşağıdaki acil durumlar ile bu durumlarda aramamız gereken telefon numaralarını eşleştiriniz.

Yaralanma

122

Şehirdeki
Hırsızlık

156

Yangın

112

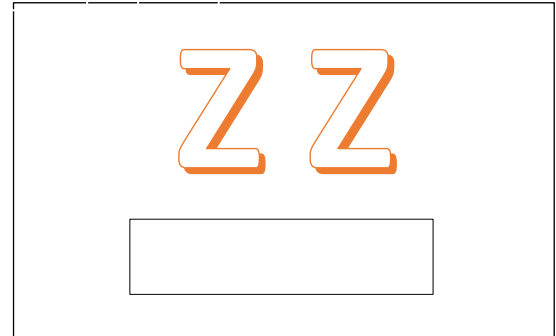
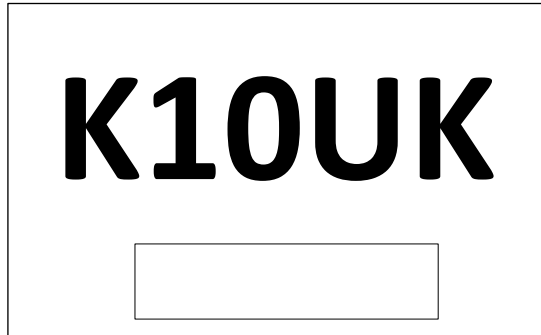


Köydeki
Hırsızlık

155

Doğal Afet

110

RESFEBE, bir kelimenin farklı kelimeler,
sözcük grupları ya da resimlerle
anlatılması üzerine tasarlanmış bir
oyundur. Hadi, birlikte şifreleri çözelim!



NOKTALAMA İŞARETLERİ

Aşağıdaki cümlelerde ayraç içine gelmesi gereken noktalama işaretini eşleştirip yazınız.

a) Hafta sonu nereye gitmeyi düşündünüz ()




b) Akşam evimize amcamlar gelecek ()



c) Pazardan aldığı meyveler saymakla bitmezdi: Elma, portakal, kiraz ()



d) Betül () yüksek tepelere çıkmayı seviyordu.



e) Okullar ne zaman açılacak biliyor musun? ()



lacak biliyor musun?

f) Eyvah () Evleri yanıyor.



METİNDE KONU

Aşağıdaki metinlerin konusunu boş bırakılan yerlere yazınız.

Amcası, Süleyman' a doğum gününde sürpriz yapmak istedi. Ona uzun zamandır istediği kırmızı bisikleti alacaktı. Doğum günü geldiğinde arkadaşları ve yakınları Süleymanların evine geldi. Süleyman için çok mutlu bir gündü. Pastanın mumlarını üfledikten sonra sıra hediye vermeye gelmişti. Amcası kutudan bisikleti çıkardığında sevinçten havalara uçmuştu. Koşarak amcasının boynuna sarılıp ona teşekkür etti.

KONU:



Atatürk'ün en büyük özelliklerinden birisi de ileri görüşlü olmasıydı. Kurtuluş Savaşı başlamadan aylar önce İstanbul'a gelen düşman donanması Atatürk'ün yakın arkadaşları tarafından rahatsız edici bulunmuştu. Bunun üzerine İstanbul Galata Kulesi tarafında buluştular. Atatürk'e bu durumu dile getirmeleri üzerine Atatürk "Geldikleri gibi giderler!" diyerek hem Kurtuluş Savaşı'nın haberini vermiş hem de Türk milletinin bunlara boyun eğmeyeceğini öngörmüştür.

KONU:



ÇIKARMA İŞLEMİNDE VERİLMİYEN EKİSİLENİ VE VERİLMİYEN ÇIKANI BULMA

Aşağıdaki çıkarma işlemlerinde verilmeyenleri işlem yaparak bulunuz.

$$\begin{array}{r} 481 \\ - \square \\ \hline 236 \end{array}$$

$$\begin{array}{r} \square \\ - 215 \\ \hline 369 \end{array}$$

$$\begin{array}{r} 965 \\ - \square \\ \hline 388 \end{array}$$

$$\begin{array}{r} \square \\ - 215 \\ \hline 566 \end{array}$$

$$\begin{array}{r} 777 \\ - \square \\ \hline 369 \end{array}$$

$$\begin{array}{r} \square \\ - 217 \\ \hline 511 \end{array}$$

ROMEN RAKAMLARI

Aşağıdaki problemleri çözünüz. Sonuçlarını tabloda verilen sayılarla eşleştiriniz.



V TL



VII TL



IX TL



IV TL



III TL

Havuç portakaldan kaç lira pahalıdır?

Portakal ile soğanın toplamı kaç liradır?

Patates ile muz alan birisi kaç lira verir?

Patates soğandan kaç lira pahalıdır?

Muz ile havuç alan birisi ne kadar verir?

XII

I

XVI

VII

VI

MADDEYİ NİTELEYEN ÖZELLİKLER

Aşağıdaki tabloda maddeyi nitelendiren özellikleri bulup işaretleyiniz.

Madde	Pürüzlü	Pürüzsüz	Kokulu	Kokusuz	Yumuşak	Sert	Esnek	Kırılgan
Halı								
Cam								
Sünger								
Zımpara								
Biber								
Hamur								
Gül								
Odun								
Yay								
Silgi								

MADDENİN HALLERİ

Maddenin halleri ile ilgili verilen bilgileri uygun görseller ile eşleştiriniz.



SIVI

Belirli bir şekli yoktur.

Sıkıştırılmazlar.



katı

Akışkandırlar.

Kabın şeklini alamazlar.




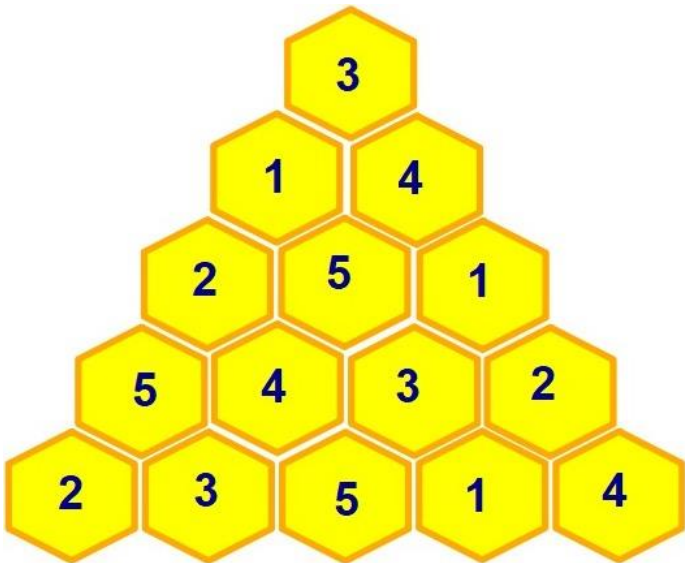
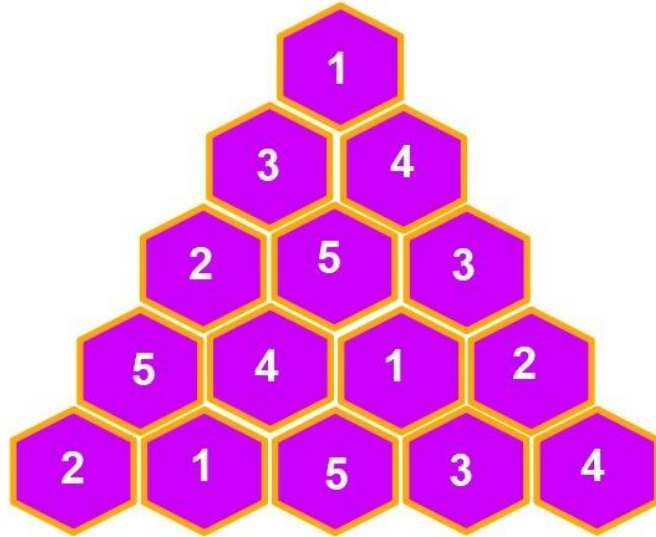
gaz

Her yöne yayılırlar.

SİHİRLİ PİRAMİT

Bu oyunda amaç piramidin tepesinden birbirine bağlı çemberlerden ilerleyerek en alta ulaşmaktır.
Her rakam bir defa kullanılabilir.

Hadi, birlikte aşağıya ulaşalım!



OKUDUĞUNU ANLAMA

UMBA AŞÇI OLUYOR



Mutfaktan nefis kokular geliyordu. Umba hızlıca mutfağa gitti. Annesi kurabiyeleri pişirmek için fırına koymuştu. Bu gelen kokular kurabiyelere aitti. Umba'nın annesi "Umba şimdi seninle minik poğaçalar yapabiliriz. İstersen hamurunu sen hazırlayabilirsin." dedi.

Bu fikir Umba'nın çok hoşuna gitmişti. Ellerini yıkadı. Annesi beline bir önlük bağladı. Başına tıpkı aşçıların kullandığı gibi bir şapka koydu. Umba kollarını iyice sıvadı. Un, su, tuz, biraz sıvı yağ... Annesi hamuru için gerekli malzemeleri Umba'nın kabına koydu. Umba hepsini iyice karıştırdı. Biraz daha un... Biraz daha tuz... Hamur gerçekten çok iyi gözüküyordu. Umba, minik poğaçalarını peynirli yapacaktı. İçi için bir çatal

yardımıyla peynirlerini ezdi. Hamurundan küçük küçük parçalar koparıp içine peynir koydu. Annesi, Umba'ya yardım etti. Minik poğaçalar tepsiye yerleştirildi. Pişmesi için fırına gönderildi.

Umba, fırının ısısının etkisiyle şişen ve gittikçe büyüyen poğaçalarını gözlemledi. Poğaçalar zaman geçtikçe hem büyüyor hem de renk değiştiriyordu. Umba, aşçılık oyununu çok sevmişti. Bundan sonra annesine mutfakta daha çok yardım etmeye karar verdi.

Aşağıdaki soruları metne göre cevaplayınız.

1. Mutfaktan gelen kokular neye aittir?

.....

2. Umba'nın hoşuna giden fikir nedir?

.....

3. Annesi ve Umba, hamur yapmak için hangi malzemeleri kullanmışlardır?

.....

4. Fırındaki poğaçaları gözlemleyen Umba ne ile karşılaştı?

.....

5. Umba, neden annesine mutfakta daha çok yardım etmeye karar verdi?

.....



ÇIKARMA VE TOPLAMA İŞLEMİNDE SONUCU TAHMİN ETME

Aşağıdaki çıkarma ve toplama işlemlerinin sonuçlarını en yakın onluğa yuvarlayarak tahmin ediniz. Gerçek işlem sonucu ve tahminimiz arasındaki farkları yuvarlakların içine yazınız.

Tahmin

$$\begin{array}{r} 335 \\ - 194 \\ \hline \end{array}$$

.....

.....

.....

Tahmin

$$\begin{array}{r} 895 \\ + 107 \\ \hline \end{array}$$

.....

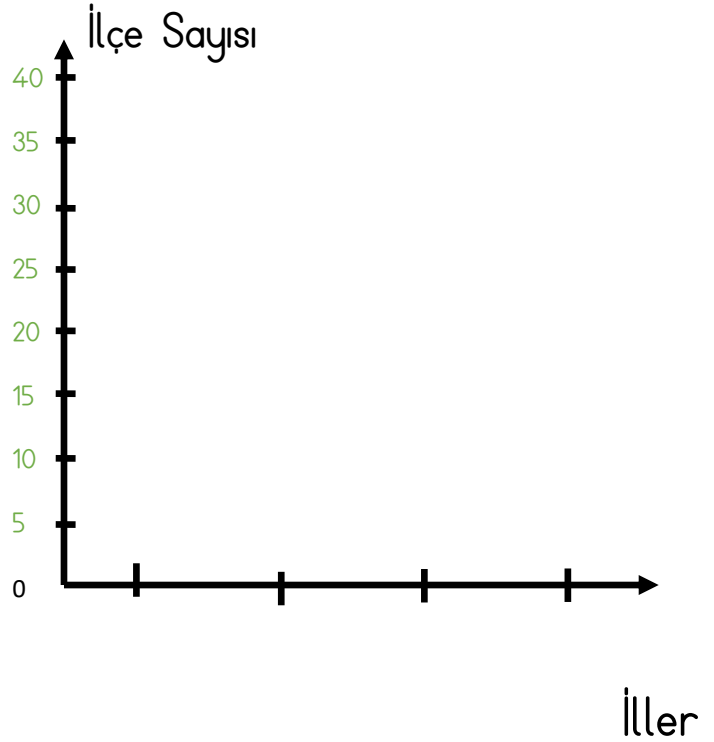
.....

.....

VERİ TOPLAMA VE DEĞERLENDİRME

Aşağıdaki tabloda bazı illerin ilçe sayıları verilmiştir. Tablodaki bilgileri grafiğe dönüştürünüz.

İller	İlçe Sayısı
İstanbul	40
Uşak	5
Ankara	25
İzmir	30



TEKNOLOJİK ARAÇ VE GEREÇLER

Teknolojik araçlarla ilgili aşağıdaki soruları cevaplayınız.

Teknolojik ürünlerden hangilerini tek başımıza kullanmamız sakıncalıdır?

.....
.....

Tanımadığımız biri bize teknolojik araçları kullanarak mesaj gönderdiğinde ne yapmamız gerekir?

.....
.....

Elektrikli teknolojik aletleri dikkatli kullanmazsak sebep olabileceğimiz kazalardan üç tane yazınız?

.....
.....

Tablet veya bilgisayar kullanırken nelere dikkat etmeliyiz?

.....
.....
.....

ÜLKEMİZİN YERİ

Aşağıdaki haritada ülkemizin yerini bulup kırmızıya boyayınız. Haritanın altındaki cümlelerde boş bırakılan alanları doldurunuz.




Ülkemizin başkenti'dir.

Ülkemizin Asya kıtasında bulunan bölümüne denir.

Ülkemizin Avrupa kıtasında kalan bölümüne denir.

Aşağıda karışık olarak verilen harfler arasında bazı gezegen isimleri saklandı. Hadi, birlikte bu gezegenleri bulalım!



S	B	R	I	M	N	Q	W	X	M	N	J	J	J	
H	A	W	Q	L	O	Q	T	F	F	F	T	D	C	X
R	N	T	M	E	X	Y	E	P	P	L	H	U	M	I
D	A	Y	Ü	M	E	I	K	C	Z	F	B	O	Q	L
Z	Z	P	A	R	N	Ü	T	P	E	N	X	P	G	X
Z	Z	R	Q	G	N	Q	U	R	A	N	Ü	S	B	J
P	S	L	L	H	U	C	W	B	O	V	T	V	G	Q
T	Z	A	G	I	A	B	S	Y	M	I	M	E	X	H
O	S	W	I	Y	Y	J	V	X	K	E	Y	N	V	I
E	Q	T	N	M	C	D	R	U	R	Z	C	Ü	G	Z
E	J	Ü	P	I	T	E	R	K	M	K	N	S	N	U
R	D	R	O	N	D	R	Ü	V	F	A	H	L	K	P
I	D	Y	C	T	K	R	Q	W	X	R	B	E	S	F
N	R	T	W	P	O	W	G	O	X	Q	B	F	Z	P
V	A	F	D	V	L	B	J	Z	M	J	I	Q	M	X

Dünya
Mars

Merkür
Venüs

Jüpiter
Satürn

Uranüs
Neptün

METİNDE BAŞLIK

Aşağıdaki metne uygun başlık yazınız.

Oldukça eskiden tarla faresi ile şehir faresi dost olmuş. İkisi birbirlerini severmiş. Aralarında güzel bir dostluk kurulmuş. Şehir faresi sık sık tarla faresini ziyaret edermiş. Beraber kırlarda güle oynaya zaman geçirirlermiş. Diledikleri kadar koşar, zıplar, yuvarlanırlarmış.

Bir gün şehir faresi arkadaşını yemeğe çağırmış. "Bu akşam bizlere gel. Sana güzel bir sofraya hazırlayayım. Azıcık miden bayram etsin." demiş. Bu davete tarla faresi sevinmiş. Yiyeceği yemeklerin hayalini kurmaya başlamış. Tüm gece rüyasında peynirler, tatlılar, pastalar görmüş. Ayrıca şehir faresinin evinde bir telaş bir telaş.. Çeşit çeşit yiyecekler, pastalar hazırlanmış. Tüm gün koşturup durmuş. Akşam tarla faresi kalkıp gelmiş. Bakmış, masanın üstü çeşit çeşit yiyeceklerle dolu. Masada hiçbir şey noksan değilmiş. Derhal sofraya oturmuşlar. Ziyafet neşeli başlamış.

Tarla faresi ilk olarak pastadan bir lokma alacaktı. Tam çatalını uzatmış, dışarıdan sesler gelmiş. Şehir faresi derhal deliğine firar etmiş. Arkasından da tarla faresi kendini zor atmış deliğe. Korkudan kalpleri küt küt atıyormuş. Tarla faresi "Evin kedisi olabilir mi?" diye sormuş. Şehir faresi "Sanırım onun gürültüsüydü." diye yanıt vermiş. Tekrar sofraya oturmuşlar. Fakat artık neşeleri firar etmiş, tedirgin olmuşlar. Tarla faresi bu kez çatalını böreğe uzatmış. Tam lokmayı ağzına atacaktı, gene sesler işitmişler. Apar topar ikisi de kendilerini deliğe atmış. Yüzleri korkudan sapsarı olmuş.

La Fontaine Masalları (Derleme)

5N 1K

Aşağıdaki cümlelerde altı çizili kelime gruplarını bulmak için uygun sorularla eşleştiriniz.

Pamuk, bizimle parka geldi.

Ne zaman?

Sabah kahvesi için bizim evde toplandık.

Ne?

Konser, bir hafta sonra Ankara'da olacak.

Nasıl?

Annem, bana masmavi bir elbise dikti.

Nerede?

Karne hediyesi olarak bisiklet aldılar.

Kim?

TABLolar

Aşağıdaki çetele ve sıklık tablolarındaki boşlukları doldurunuz.

Ürün	Miktar (kg)
Elma	###- ###
Muz	
Portakal	
Armut	
Ayva	### III

Ürün	Miktar (kg)
Elma	
Muz	17
Portakal	
Armut	6
Ayva	

- 1) En fazla kilograma sahip ürün hangisidir?
- 2) Tüm ürünlerin toplamı kaç kilogramdır?

DOĞAL SAYILARLA ÇARPMA İŞLEMİ

Aşağıdaki çarpma işlemlerini yapınız.

$$\begin{array}{r} 79 \\ \times 2 \\ \hline \end{array}$$

$$\begin{array}{r} 281 \\ \times 3 \\ \hline \end{array}$$

$$\begin{array}{r} 38 \\ \times 26 \\ \hline \\ \hline \end{array}$$



$$\begin{array}{r} 29 \\ \times 17 \\ \hline \\ + \\ \hline \end{array}$$

$$\begin{array}{r} 189 \\ \times 5 \\ \hline \end{array}$$


$$\begin{array}{r} 189 \\ \times 5 \\ \hline \end{array}$$

IŞIK KAYNAKLARI

Aşağıdaki görsellerin altına "doğal ışık kaynağı" ve "yapay ışık kaynağı" ifadelerinden uygun olanı yazınız.


**ÇEVREMİZDEKİ SESLER**

Aşağıda verilen görsellerden doğal ya da yapay ses kaynağı olanları işaretleyiniz.



Şeyyy..

Yolumu kaybettim de evime gitmeme
yardım eder misiniz?



ANA FİKİR

Aşağıdaki metinlerin ana fikirlerini altlarına yazınız.

KARGA İLE KOYUN

Kartal süzülüp koyun sürüsüne dalmış. Bir koyunu kapıp havalanmış. Bu durumu gören karga, kartala özenmiş. "Bunu ben de yapabilirim." diye düşünmüş. Kanatlarını açmış, pençelerini germiş. Kartal gibi süzülerek bir koyunun sırtına konmuş. Koyunu kaldırmak istemiş, başaramamış. Çabaladıkça pençeleri koyunun yünlerine dolanmış. Karga ayaklarını kurtarmak istemiş, fakat kurtaramamış. Durumu gören çoban, kargayı yakalamış, ama bırakmamış. Evine götürüp kafese koymuş. Çoluk çocuğa göstermiş.

Kartala özenen zavallı karga, hem özgürlüğünü yitirmiş hem de gülünecek duruma düşmüş.

La Fontaine

Metnin ana fikri:

AÇGÖZLÜ KÖPEK

Günlerden bir gün açgözlü köpek, bulduğu kemik parçasını ağızına alarak arkadaşları görüp istemesin diye uzaklarda bir yerde yemek için yola koyulmuş. Az gitmiş, uz gitmiş, dere tepe düz gitmiş. Sonunda ortasından masmavi suları olan bir dere akan yemyeşil bir ormana varmış. Dereyi aşmak için yürümeye başladığı köprünün tam ortasındaymış ki, derenin içinde bir köpeğin ağızında kemik parçası olduğunu görmüş. Açgözlü köpek "Ne kocaman bir kemik parçası... Tam ağızıma layık, onu ben yemeliyim." diye düşünmüş. Derenin içindeki köpeğe doğru havlayarak onun ağızındaki kemiği almak isterken, ağızındaki kemiği dereye düşürmüştü. O zaman anlamış, deredeki görüntü onun yansımasıymış.

Ezop

Metnin ana fikri:

ANA DUYGU

Aşağıdaki dördlüklerin ana duygularını boşluklara yazınız.

Irmaklar yaslı ağlamış,
Ağaçlar sessiz ağlamış,
Vatan karalar bağlamış,
Atatürküm öldü diye

Mehmet Necati ÖNGAY

Güneş yüzlü, altın kalpli,
Ağır başlı, tatlı dilli,
Meleklerin eşi sanki
Sensin, benim güzel annem.

H. Latif SARIYÜCE

Yazın serin kışın sıcak
İnsanlara açar kucak
Güzel olur dört bir bucak
Ağacı sev orman olsun.

Şener ALTUN

KISA YOLDAN ÇARPMA İŞLEMİ

Aşağıdaki kısa yoldan çarpma işlemlerinde kutuların içlerine uygun sayıları yazınız.

$$35 \times 10 = \square$$

$$1 \times 100 = \square$$

$$\square \times 10 = 860$$

$$5 \times 100 = \square$$

$$35 \times \square = 350$$

$$100 \times \square = 600$$

$$\square \times 10 = 250$$

$$98 \times 10 = \square$$

$$7 \times 100 = \square$$

$$35 \times \square = 35$$

DOĞAL SAYILARLA BÖLME İŞLEMİ

Aşağıdaki bölme işlemlerini yapınız.

$$\begin{array}{r} 77 \overline{) 5} \\ \square \\ \square \\ \square \end{array}$$

$$\begin{array}{r} 49 \overline{) 3} \\ \square \\ \square \\ \square \end{array}$$

$$\begin{array}{r} 85 \overline{) 5} \\ \square \\ \square \\ \square \end{array}$$

$$\begin{array}{r} 68 \overline{) 2} \\ \square \\ \square \\ \square \end{array}$$

$$\begin{array}{r} 71 \overline{) 2} \\ \square \\ \square \\ \square \end{array}$$

$$\begin{array}{r} 45 \overline{) 3} \\ \square \\ \square \\ \square \end{array}$$

$$\begin{array}{r} 99 \overline{) 3} \\ \square \\ \square \\ \square \end{array}$$

$$\begin{array}{r} 54 \overline{) 3} \\ \square \\ \square \\ \square \end{array}$$

ATATÜRK DE ÇOCUKTU

Atatürk'ün okuduğu okullar aşağıda karışık sırayla verilmiştir. Atatürk'ün okuduğu okulları doğru sırayla noktalı yerlere yazınız.

- Harp Okulu
- Mahalle Mektebi
- Şemsi Efendi İlkokulu
- Selanik Mülkiye Rüştîyesi(Ortaokulu)
- Selanik Askeri Rüştîyesi(Ortaokulu)
- Harp Akademisi
- Manastır Askeri İdadisi

1.
2.
3.
4.
5.
6.
7.

MİLLİ BAYRAMLARIMIZ

Aşağıdaki olaylar ve milli bayramları eşleştiriniz.

Mustafa Kemal Atatürk
Samsun'a çıkıp Kurtuluş
Savaşı'nı başlatmıştır.

Ankara'da TBMM açılmıştır.

Cumhuriyet ilan edilmiştir.

Kurtuluş Savaşı zaferle
sonuçlanmıştır.

29 Ekim
Cumhuriyet Bayramı

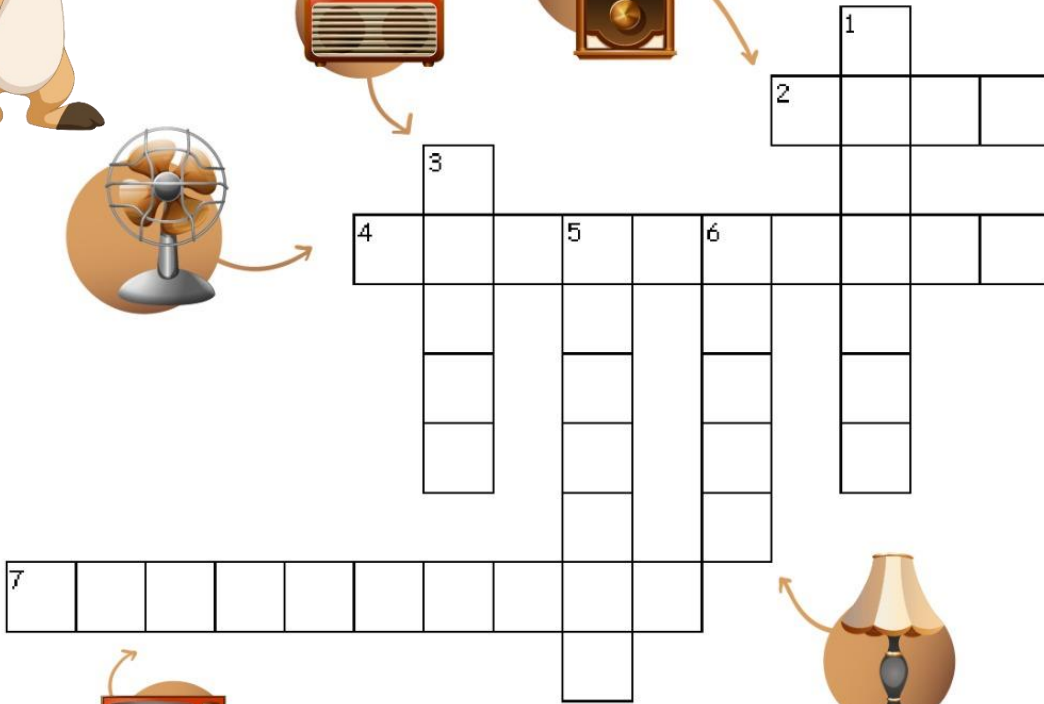
23 Nisan
Ulusal Egemenlik ve
Çocuk Bayramı

30 Ağustos
Zafer Bayramı

19 Mayıs Atatürk'ü Anma,
Gençlik ve Spor Bayramı

ÇENGEL BULMACA

Elektronik araçların isimlerini merak ediyorum. Bu araçların isimlerini bulup bulmacaya yazmaya ne dersin?



Karşısında
 2. saat
 4. vantilatör
 7. televizyon
 1. daktilo
 3. radyo
 5. telefon
 6. lamba


OKUDUĞUNU ANLAMA

YAZ YAĞMURU

Umba ve ailesi, Sayu Hala'nın evine gelmişlerdi. Kapıdan içeri girer girmez şiddetli bir yağmurun yağdığını fark ettiler. Yaz mevsiminde yağın yağmur Umba'yı çok şaşırtmıştı. Umba'nın halası Sayu yağmuru görünce büyük büyük kovaları balkona koymuştu. Yağmur damlaları içine doluyordu.

Umba'nın çok dikkatini çekmişti. Umba "Sayu Hala, ne yapıyorsun?" diye sordu. Sayu Hala "Yağın yağmur damlalarını değerlendiriyorum Umba. Kovaya dolan bu sularla yarın bahçeyi sulayacağım. Yağmur damlaları bitkiler için çok faydalıdır." dedi. Umba "Sayu Hala, bu çok güzel bir fikir. Ben de bundan sonra küçük bitkilerimi sulamak için yağmur damlalarından faydalanacağım. Hem bu şekilde su tasarrufu da yapmış oluyoruz değil mi?" diye sordu. Sayu Hala "Evet Umba. Bahçelerimizi, bitkilerimizi sulamak için yağmur suyunu kullanmak su tasarrufu yapmamızı sağlar. Yağmur sularını bizler de değerlendirmeliyiz." dedi.

Umba, edindiği bu değerli bilgiyi arkadaşları ile de paylaşmaya karar verdi. Bu sayede belki de birçok insanın su israfını engelleyebilirdi. Bu düşünce onu gerçekten çok mutlu etmişti.



Aşağıdaki soruları metne göre cevaplayınız.

1. Umba ve ailesi nereye gitmişler?

.....

2. Umba'yı çok şaşırtan olay ne olmuştur?

.....

3. Umba, edindiği bilgiyi kiminle paylaşmaya karar verdi?

.....

4. Yağmur suları ile su tasarrufu nasıl yapılır?

.....

.....

5. Umba'yı çok mutlu eden durum nedir?

.....

KISA YOLDAN BÖLME İŞLEMİ

Aşağıdaki bölme işlemlerini kısa yoldan yapınız.

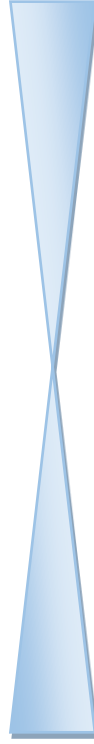
$$700 \div 10 = \square$$

$$820 \div 10 = \square$$

$$\square \div 10 = 3$$

$$\square \div 100 = 4$$

$$680 \div 10 = \square$$



$$100 \div \square = 10$$

$$140 \div 10 = \square$$


$$10 \div 10 = \square$$


$$40 \div \square = 40$$


$$350 \div \square = 35$$


KESİRLER – BİRİM KESİR – BÜTÜN, YARIM VE ÇEYREK

Aşağıdaki şekillerde boyalı kısımları kesirli sayı olarak alttaki kutulara yazınız.









DOĞAL VE YAPAY SES KAYNAKLARI

Aşağıdaki görsellerin altına "doğal ses kaynağı" ve "yapay ses kaynağı" ifadelerinden uygun olanı yazınız.



.....



.....



.....



.....



.....



.....



.....



.....

SESİN ŞİDDETİ


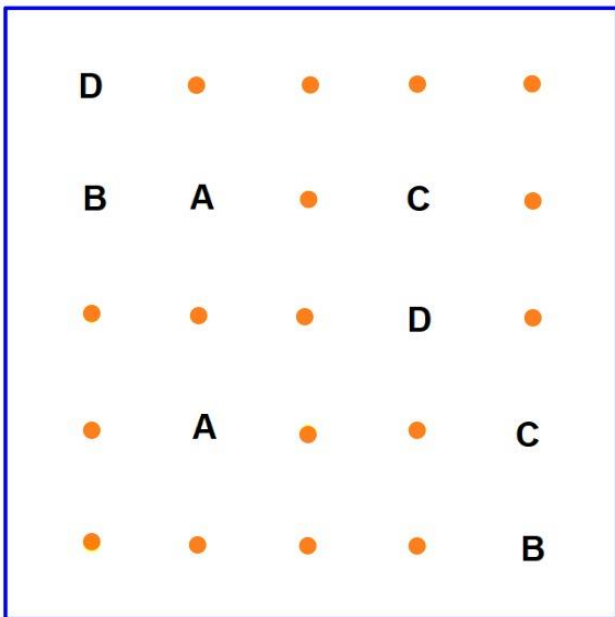
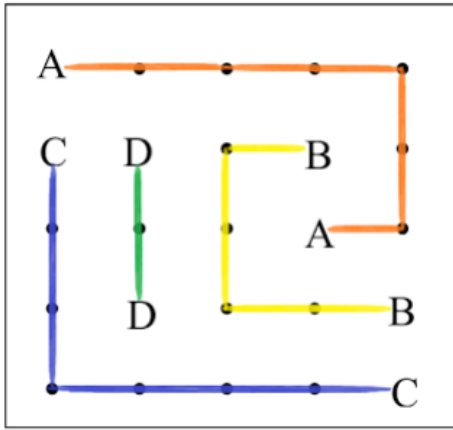
Aşağıdaki görsellerin altına "ses şiddeti fazla" ve "ses şiddeti az" ifadelerinden uygun olanı yazınız.



ABC BAĞLAMACA

ABC Bağlamaca oyununda amaç harfleri çiftleri ile eşleştirmektir. Harfleri bağlarken yatay ya da dikey çizgiler kullanmamız gerekir. Çizgiler birbirini kesmemelidir. Harfleri bağladıktan sonra tek bir nokta bile açıkta kalmamalıdır. Çizgiler harflerin değil noktaların üzerinden geçebilir. Birlikte yapmaya ne dersin?

Örnek:



METİN TÜRLERİ

Aşağıdaki cümlelerde verilen özellikleri ait olduğu metin türleriyle eşleştiriniz.

Okuyucuya bir bilgi, haber vermek amacıyla yazılır.

ÖYKÜLEYİCİ
METİN

Kahramanlar, yer ve zaman belirtilir.

Yaşanması mümkün olan olaylar anlatılır.

ŞİİR

Her bir satırına dize adı verilir.

BİLGİLENDİRİCİ
METİN

Yazan kişiye şair denir

HİKÂYE UNSURLARI

KURALLARA UYALIM

Yiğit ve Yunus üçüncü sınıfa giden; aynı sokakta oturan çok iyi arkadaşlardı. Evleri okula yakın olduğu için her sabah beraber yürüyerek gidip gelirlerdi. Yine bir sabah beraber okula gitmek için evden çıktılar. Her zaman kaldırımın yola uzak olan kısmından giderlerdi. Yolda kurallara uygun hareket ederlerdi. Birden bir ses duydular. Ortalık kalabalık olmaya başlamıştı. Yerde acı bir şekilde yatan bir çocuk gördüler. O çocuk sınıf arkadaşları Nazlıydı. Ayağını tutarak ağlamaya devam ediyordu. Nazlı, yaya geçidini kullanmadan karşıdan karşıya geçmeye çalışırken arabanın geldiğini görmüş ve panikle koşup düşmüştü. Bu esnada ayağını incitmişti. Trafik kurallarına uymayan Nazlı, büyük bir hata yapmış ve bunun karşılığında kötü bir durumla karşılaşmıştı.


Aşağıdaki soruları metne göre cevaplayınız.

OLAY	YER
.....
ZAMAN	KAHRAMANLAR
.....


BİR ÇOKLUĞUN BİRİM KESİR KADARINI GÖSTERME

Aşağıdaki problemlerde ifade edilen kesri şekille gösteriniz ve işlem yaparak problemi çözünüz.

Deren'in 39 tane boya kalemi vardı. Deren, boya kalemlerinin $\frac{1}{3}$ ' ini arkadaşına verdi. Deren arkadaşına kaç kalem verdi?











95 ₺'nin $\frac{1}{5}$ ' i kaç ₺ eder?



ZAMAN ÖLÇME

Aşağıdaki saatlerin öğleden önce ve öğleden sonraki okunuşlarını kutuların içine yazınız.

<p>Öğleden Önce</p>  <p>Öğleden Sonra</p> 	<p>Öğleden Önce</p>  <p>Öğleden Sonra</p> 
<p>Öğleden Önce</p>  <p>Öğleden Sonra</p> 	<p>Öğleden Önce</p>  <p>Öğleden Sonra</p> 

FARKLI KÜLTÜR VE YAŞAM ŞEKİLLERİ

Aşağıda ülkemize gelen göçmen çocuklarla ilgili bazı tutum ve davranışlar verilmiştir. Verilen ifadelerden doğru olanların yanındaki kutucukları boyayınız.

Göçmen çocukları oyunlarımıza almamalıyız.



Göçmen çocuklarla arkadaş olabiliriz.



Göçmen çocuklarla ayrı sralara oturmalıyız.



Göçmen çocuklara ve ailelerine eşya yardımı yapabiliriz.



Göçmen çocuklara ve ailelerine yiyecek yardımı yapabiliriz.



Göçmen çocukların dilimizi öğrenmesine yardım edebiliriz.



DOĞAL AFETLER VE ALINACAK ÖNLEMLER

Aşağıdaki nesnelere deprem çantasında bulunması gerekenleri ok işaretiyle deprem çantasına yerleştiriniz.



Hey! Sudoku çözmek için hazır mısın?

Her satırda, her sütunda ve 3×3 boyutluk her karede,
1'den 9'a kadar olan rakamları birer defa yazabilirsiniz.



9			5		1			
			9				1	7
				6		5		
	4					8	7	
		6		5	4	1	9	3
3	9	2	8		7		5	4
			6	8	9	7	2	1
		9		7			6	5
1		7	4	2	5			8

3		1	8	4		2	9	
		5	6	9				1
	8			1			6	
			1				5	
6		7			8			3
		3	2	7	9			
4	3	6			1		7	2
	7	2		3				
5	1		7	2	4	6	3	9

BÜYÜK HARFLERİN KULLANIMI

Aşağıdaki cümlelerde yazım yanlışını bulup karşısına nedenini yazınız.

Cümle	Nedeni
Yarın akşam istanbula gideceğiz.	Şehir adları büyük harfle yazılır.
Seval ve süleyman, tatil için nereye gidecekler?	
Teyzemler, italyadan ne zaman gelecekler?	
Arkadaşım cumhuriyet mahallesinde oturuyorlar.	
Trabzon karadeniz bölgesinde yer alıyor.	
Köpeklerinin adını mess koydular.	
Uşak'tan İstanbul'a sadece türk hava yolları geliyor.	

SATIR SONUNA SIĞMAYAN KELİMELEER

Satır sonuna sığmayan sözcüklerden doğru bir şekilde ayrılmış kelimelerin altındaki "D" harfinin, yanlış ayrılmış kelimelerin altındaki "Y" harfinin olduğu kutucuğu boyayınız.

____Atatürk'-
ün

D Y

____ okul-
un

D Y

____ilkög-
retim

D Y

____ Tür-
k

D Y

____ yarın-
lar

D Y

____İstanbul'
da

D Y

PARALARIMIZ

Aşağıda verilen dönüşümleri yapınız.

1 lira = kuruş		2 lira = kuruş
3 lira = kuruş		6 lira = kuruş
..... lira = 4 tane 50 kuruş		8 lira = kuruş
..... lira = 8 tane 25 kuruş	 lira = 4 tane 25 kuruş
2 lira = tane 50 kuruş		3 lira = tane 100 kuruş
200 kuruş = lira		10 lira = 100 kuruş
200 lira = tane 10 lira		100 lira = tane 10 lira
5 tane 10 lira = lira		200 lira = 20 lira

TARTMA

Tartma ile ilgili aşağıda verilen problemleri çözünüz.

Ağırlıkları toplamı 94 kg olan Merve ve Müge'nin, ağırlıklarının birbirine eşit olduğu biliniyor. Buna göre Müge kaç kilogramdır?

Serhan 77 kg'dır. Osman ise Serhan'dan 14 kg daha hafiftir. Serhan ve Osman'ın ağırlıkları toplamı kaçtır?

Bakkal Şükrü Amca, tanesi 25 kg olan 18 çuval şeker almıştır. Aldığı şekerlerin 4 çuvalını satmıştır. Geriye kaç kg şekeri kalmıştır?

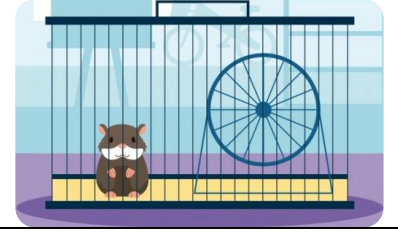
Levent'in kamyoneti 900 kg yük alabilmektedir. Kamyonete 254 kg toprak, 398 kg çakıl taşı koyuluyor. Kamyonete kaç kg daha malzeme koyulabilir?

DOĞAL VE YAPAY ÇEVRE


Aşağıdaki görsellerin altına "doğal çevre" ve "yapay çevre" ifadelerinden uygun olanı yazınız.













ELEKTRİKLİ ARAÇ VE GEREÇLER

Aşağıdaki elektrikli araçları kullanım amaçlarına göre uygun şekilde eşleştiriniz.



İletişim




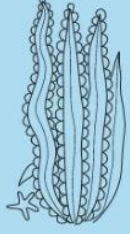


Temizlik



Isıtma

Mavi çerçeve içerisindeki resimleri bulup boyamaya ne dersin?



OKUDUĞUNU ANLAMA

İCATLARIN GİZEMİ



Yaşamımızı kolaylaştıran birçok şey vardı. Bulaşık makinesi bulaşıkları, çamaşır makinesi çamaşırları yıkıyordu. Elektrik denilen şey bütün cihazları çalıştırabilecek güce sahipti.

Umba, bütün gün evde bulunan tüm elektronik cihazları gözlemlemeye başladı. Bu cihazlar bir harikaydı. Telefonların şarjı bitince şarj kablosu aracılığı ile fişe takılıyor, elektrik alınıyordu. Annesi kek yaparken elektrikle çalışan bir alet kullanıyordu. Çırpma işini gerçekten çok başarılı yapıyordu. İnsanlardan daha fazla çalışan aletler gördüğüne karar verdi. Bütün hepsi insanların hayatını kolaylaştırmış, onlara yardımcı olmuştu. Elektrik süpürgesi her gün evi süpürüyordu. Bütün bu aletleri kullanabilmek için yine de insanlara ihtiyaç vardı.

Umba hepsini birbiriyle ilişkilendiriyor; eğer olmasaydı ne yapardık diye düşünüyordu. Bütün elektronik cihazları icat eden kişiler vardı. Gerçekten onlar iyi ki varmış diye düşünüp durdu. Hepsini teker teker araştırmaya başladı. Bu meraklı hali ona birçok bilgi katacaktı.



Aşağıdaki soruları metne göre cevaplayınız.

1. Bütün cihazları çalıştırabilecek güce sahip olan şey nedir?

.....

2. Evinizde hangi cihazlara sahipsiniz?

.....

3. Evimizde bulunan bu cihazları kullanabilmek için neye ihtiyaç vardır?

.....

4. Umba, neyi teker teker araştırmaya başladı?

.....

5. Eğer elektrikli cihazlar olmasaydı neler yapardık?

.....



GEOMETRİK ŞEKİLLER

Geometrik şekiller ve özelliklerini eşleştiriniz. İki şekille birden eşleşen özelliğin kutusunu kırmızıya boyayınız.

Hiç kenarım ve köşem yoktur.

Tüm kenar uzunluklarım birbirine eşittir.


Üç köşem vardır.

4 kenarım ve 4 köşem vardır.



GEOMETRİK CİSİMLER

Aşağıdaki geometrik cisimlerin çevrenizdeki hangi nesnelere benzediğini yazıp özelliklerini belirtiniz.



Silindir

Küp

Dikdörtgenler Prizması

Kare Prizma

Küre

Benzediği Nesne

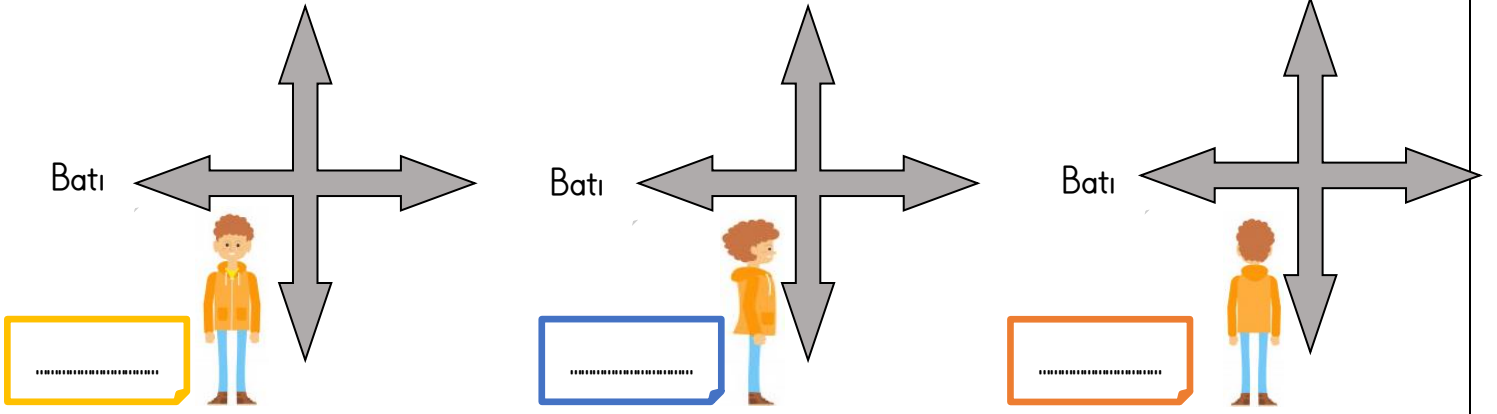
Ayırıt Sayısı

Köşe Sayısı

Yüzey Sayısı

YÖNLER

Aşağıdaki yön oklarına göre çocuğun önünde kalan yönü kutuların içine yazınız.



DÜNYA'NIN ŞEKLİ VE HAREKETLERİ

Aşağıdaki boşlukları kutulardaki uygun ifadelerle doldurunuz.

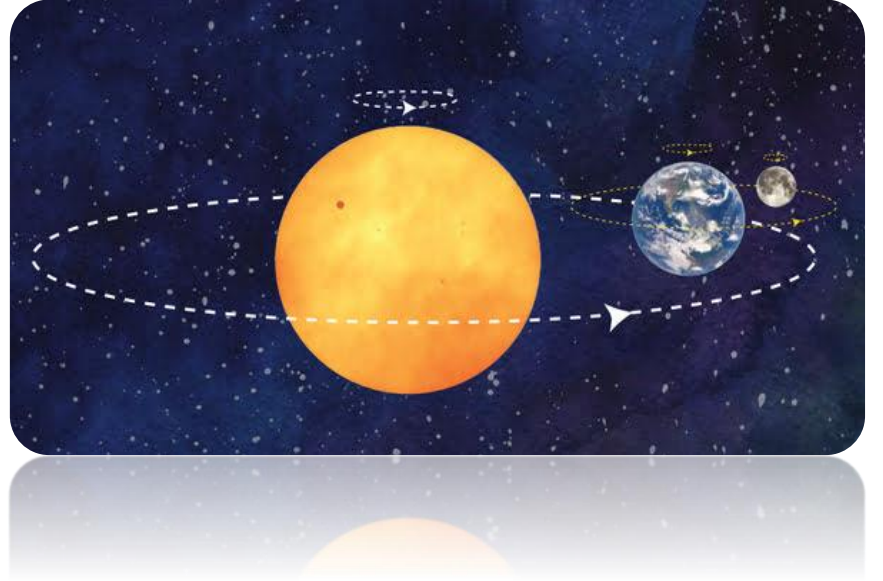
365 gün 6 saat

gece ve gündüz

24 saat

küreye

mevsimler



1. Dünya'nın kendi eksenini etrafında dönmesi sonucu oluşur.
2. Dünya, kendi eksenini etrafında bir tam dönüşünüte tamamlar.
3. Dünya'nın Güneş'in etrafında dolanması sonucu oluşur.
4. Dünya, Güneş'in etrafında bir tam turute tamamlar.
5. Dünya'nın şekli benzer.

FARKI BULMA



Hey! Görünüşe göre bu iki resim arasında farklar var. Hadi, iki resim arasındaki 7 farkı bulalım!



GÖRSEL OKUMA VE YORUMLAMA

Aşağıdaki görsellere uygun cümleler kurunuz.



Empty dashed box for writing a sentence related to the first image.

Empty dashed box for writing a sentence related to the second image.



Empty dashed box for writing a sentence related to the third image.

Empty dashed box for writing a sentence related to the fourth image.

















TEKİL - ÇOĞUL VE TOPLULUK İSİMLERİ

Aşağıdaki kelimeleri ait olduğu gruba göre uygun şekilde işaretleyiniz.

	TEKİL	ÇOĞUL	TOPLULUK
köpek	✓		
ordu			
millet			
çiçekler			
sınıf			
kalem			
burun			
kilimler			
bulut			
halılar			
resim			
masa			

GEOMETRİK ÖRÜNTÜLER

Aşağıda verilen geometrik örüntüyü kuralına uygun şekilde devam ettiriniz.

ÖRÜNTÜ				ÖRÜNTÜ KURALI		
						
						
						
						

GEOMETRİDE TEMEL KAVRAMLAR

Aşağıda verilen harflerin örnekteki gibi yatay, dikey ve eğik doğru parça sayılarını bulunuz

	EĞİK	YATAY	DİKEY
T	0	1	1
A			
Y			
E			
L			
M			
K			
V			
Z			

ELEKTRİK KAYNAKLARI

Aşağıdaki tabloda elektrikli araçların çalışmaları için ihtiyaç duyduğu enerji kaynağını işaretleyiniz.

Araçlar	Elektrik Kaynağı			
	Pil	Akü	Şehir Elektrikliği	Batarya
Araba				
Saat				
Kumanda				
Tramvay				
Tablet				
Helikopter				
Cep Telefonu				
Ütü				

PİL ATIKLARININ ÇEVREYE ZARARLARI

Piller ile ilgi verilen ifadeler doğru ise soldaki sütunda bulunan harfleri, yanlış ise sağdaki sütunda bulunan harfleri yuvarlak içine alıp şifreyi bulunuz.

















E	B	Pil bir enerji kaynağı değildir.
A	N	Kullan at piller yerine şarj edilebilir piller alınmalıdır.
T	A	Doğaya atılan piller uzun zaman yok olmazlar.
H	A	Atık pilleri toprağa gömmeliyiz.
R	İ	Piller kimyasal maddeler ile oluşturulduğu için sağlığımıza zarar verirler.
Y	İ	Kullanılan piller geri dönüşüme gönderilmelidir.
A	K	Akü birkaç pilin bir araya gelmesiyle oluşur.

ŞİFRE

Hey! Şekli sudoku çözmeye ne dersin?

Her satıra ve her sütuna şekiller birer defa çizilebilir.



VARLIKLARIN ÖZELLİKLERİNİ BİLDİREN SÖZCÜKLER (SIFAT)

Aşağıdaki kutularda verilen kelimeleri örnekteki gibi eşleştirip yazınız.

kırmızı	altı kiraz	kiraz
çatlak		dolap
soğuk		biber
sivri		ev
altı		araba

GERÇEK VE HAYALİ ÖĞELER

Aşağıdaki verilen cümlelerin hayal ürünü mü yoksa gerçek mi olduğunu belirleyip işaretleyiniz.

Cümle	Hayali	Gerçek
Yarın akşam sinemaya gideceğiz.		
Ay Dede, bize masal anlattı.		
Sınavdan yüksek not alınca mutlu oldu.		
Güneş, öğle vakti bize gülümsedi.		
Dalgalar, karaya doğru koşuyordu.		
Düşünce dizi çok acımişti.		
Yıldızlar şarkı söyleyerek geceye "Merhaba!" dedi.		
Sahildeki martılar ile konuştular.		
Televizyonda güzel bir film vardı.		

UZUNLUK ÖLÇME

Verilen çevirmeleri örnekteki gibi yapınız.

Örnek: 1 metre (m) = 100 santimetre (cm)

$$6 \text{ m } 70 \text{ cm} = 670 \text{ cm}$$

$$1 \text{ m } 50 \text{ cm} = \dots\dots\dots \text{ cm}$$

$$230 \text{ cm} = \dots\dots\dots \text{ m } \dots\dots\dots \text{ cm}$$

$$8 \text{ m } 13 \text{ cm} = \dots\dots\dots \text{ cm}$$

$$254 \text{ cm} = \dots\dots\dots \text{ m } \dots\dots\dots \text{ cm}$$

$$512 \text{ cm} = \dots\dots\dots \text{ m } \dots\dots\dots \text{ cm}$$

$$8 \text{ m} = \dots\dots\dots \text{ cm}$$

$$3 \text{ m } 25 \text{ cm} = \dots\dots\dots \text{ cm}$$

$$600 \text{ cm} = \dots\dots\dots \text{ m}$$

$$2 \text{ m } 35 \text{ cm} = \dots\dots\dots \text{ cm}$$

$$615 \text{ cm} = \dots\dots\dots \text{ m } \dots\dots\dots \text{ cm}$$

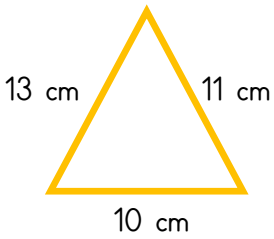
$$924 \text{ cm} = \dots\dots\dots \text{ m } \dots\dots\dots \text{ cm}$$

$$9 \text{ m } 12 \text{ cm} = \dots\dots\dots \text{ cm}$$

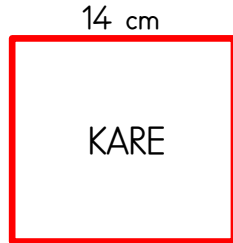
$$6 \text{ m} = \dots\dots\dots \text{ cm}$$

ÇEVRE UZUNLUKLARI HESAPLAMA

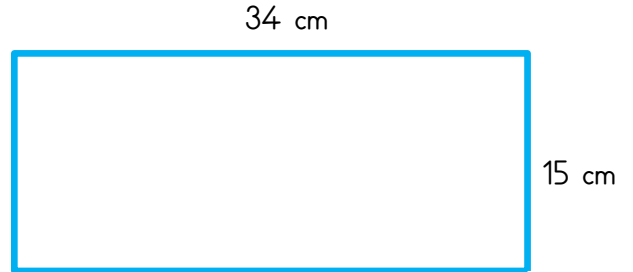
Aşağıdaki şekillerin çevre uzunluklarını hesaplayınız.



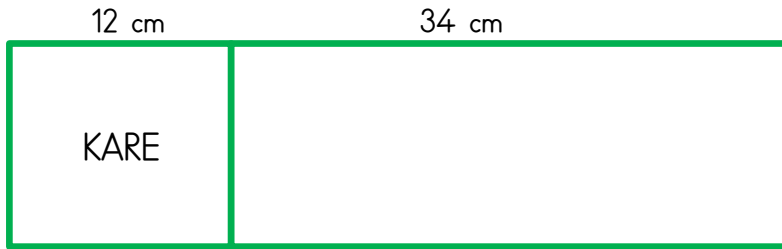
Çevre cm



Çevre cm



Çevre cm



Çevre cm

OKUDUĞUNU ANLAMA

KUMANDALAR OLMASAYDI



Serin bir yaz akşamı Umba, misafirlerini bekliyordu. Deka ve Umde, bugün Umbalara gelecekti. Umba ve annesi misafirleri için birçok hazırlık yapmıştı. Zil çaldı. Umba koşarak kapıyı açtı. Misafirlerini güler yüzüyle karşıladı.

Hep birlikte misafir odalarına gittiler. Umba eline kumandayı aldı. Arkadaşları ile beraber izleyebilmek için keyifli şeyler aramak istiyordu. Fakat işler düşündüğü gibi olmadı. Kumanda çalışmıyordu. Umba buna biraz sinirlenmişti. Neyse ki televizyonun düğmesinden kanalları değiştirebilirdi. Umba, sürekli düğmeye basıyor, keyifli şeyler arıyordu.

Gerçekten bu iş onu yormuştu. Misafirlerini memnun etmek istiyordu. Onda hiçbir şey belli etmedi. Tam keyifle annesinin yaptığı lezzetli keki yiyecekken birden Deka "Başka bir şey mi izlesek?" diye sordu. Umba gülümseyerek "Tabii Deka, hemen değiştiriyorum." diyerek ayağa kalktı. Kumanda denilen şey ne kadar da önemli bir aletmiş. Her gün evin bir köşesinde olan bu küçük ev aleti bazen gözümüzden kaçabiliyormuş.

Umba, o akşam kumandanın önemini fark etmişti. Elektronik bir cihazı uzaktan hareket ettirebilecek; insanların hayatını kolaylaştıran pek faydalı bir buluştu. Arkadaşları gidince; bundan sonra kumandasını bozmamak için ona çok iyi davranmaya karar verdi.

Aşağıdaki soruları metne göre cevaplayınız.

1. Umbalara misafir olarak kim gelecekti?

.....

2. Umba misafirleri nasıl karşıladı?

.....

3. Umba neye sinirlenmişti?


.....

4. Umba o akşam neyin önemini fark etmişti?

.....

5. Sizin de hayatınızı kolaylaştıran elektronik bir cihaz var mı? Var ise ne olduğunu sebebiyle birlikte yazınız.

.....




ALAN ÖLÇME

Aşağıdaki şekillerin alanlarının kaç birim kare olduğunu bulunuz.



Alan: birim kare



Alan: birim kare



Alan: birim kare



Alan: birim kare



Alan: birim kare

SIVILARI ÖLÇME

Aşağıdaki problemleri çözünüz.


5 bardak meyve suyu 1 litre ediyor. Her gün 1 bardak meyve suyu içen Mahmut, 75 günde kaç litre meyve suyu içmiş olur?

Ayşe Nine ve oğlu her gün 125 litre süt kullanarak peynir yapmaktadır. Buna göre Ayşe Nine ve oğlu peynir yapmak için bir haftada kaç litre süt kullanırlar?

Ayhan Bey, 906 litre suyu 3 litrelik şişelere doldurmak istiyor. Buna göre Ayhan Bey'in kaç tane 3 litrelik şişeye ihtiyacı vardır?

Bakkal Namık Amca'nın dükkânında 2 litrelik paketler halinde 298 adet meyve suyu bulunmaktadır. Buna göre dükkânda toplam kaç litre meyve suyu bulunmaktadır?

egitimgen.com



eğitimgen
yarına bir hikaye bırak



egitimgen